

大學入學考試中心
九十五學年度學科能力測驗試題

社會考科

—作答注意事項—

考試時間：100 分鐘

題型題數：

第壹部分

- 單選題：共 42 題

第貳部分

- 單選題：共 30 題

作答方式：

- 用 2B 鉛筆在「答案卡」上作答，修正時應以橡皮擦拭，切勿使用修正液

選擇題答錯不倒扣

祝考試順利

第壹部分(佔84分)

說明：第1至42題皆計分。第1至42題皆是單選題，請選出一個最適當的選項標示在答案卡之「選擇題答案區」。每題答對得2分，答錯不倒扣。

1. 依據中華民國憲法及增修條文的相關規定，下列關於總統職權的敘述，何者正確？
(A)是最高的行政首長
(B)具有法案的否決權
(C)發布法律或命令皆須行政院長之副署
(D)發布緊急命令須經行政院會議之決議
2. 學者研究指出，許多新興的發展中國家，在建國過程中同時面臨許多問題的挑戰，本質上是壓縮的社會(compressed society)。這項論述最足以反映出中山先生何種主張的背景因素？
(A)建國三程序 (B)萬能政府論 (C)革命民權論 (D)一次革命論
3. 下列哪一項事實或行為最符合中山先生主張的「合理的自由」？
(A)至公園散步時拒絕警察的隨機搜身臨檢
(B)由疫區自行攜回傳染病檢體以進行研究
(C)將自己珍藏的偶像電影上網供網友下載
(D)十六歲少男自行與相戀的同齡女友結婚
4. 一位學者強調，在正義的社會中，社會制度的安排必須對處於社會最不利地位的人是最有利的。這個論點與中山先生哪一項主張的精神最相似？
(A)濟弱扶傾 (B)民族平等 (C)計畫經濟 (D)分權制衡
5. 中華民國憲法第八十一條關於法官「非受刑事或懲戒處分，或禁治產之宣告，不得免職。非依法律，不得停職、轉任或減俸」的規定，主要在維護下列何項憲政精神？
(A)文官中立 (B)罪刑法定 (C)依法施政 (D)司法獨立
6. 某國舉行國會大選，結果沒有任何一個政黨的得票率超過半數，而由得票合計過半的二個政黨組成聯合政府。這個國家最可能是下列何者？
(A)美國 (B)俄羅斯 (C)德國 (D)瑞士
7. 全球化的浪潮席捲全世界，某些強勢文化挾帶經濟和科技的優勢，向全球進行「文化傾銷」，有些國家因而遭遇了本土文化式微甚至消失的危機。本土文化遭逢全球化的挑戰，這與清末民初中山先生認為中國所遭遇的何種境遇最相似？
(A)列強武力侵略壓迫，國家主權淪喪
(B)列強經濟力的壓迫，外資大舉入侵
(C)國人放棄民族主義，講求世界主義
(D)中國科學技術落後，產業發展停頓

8. 有關中山先生主張的「均權制度」與孟德斯鳩的「分權制度」比較，下列敘述何者正確？
- (A)兩制皆為同級政府的橫向分權制度
(B)兩制皆為中央與地方間的權力劃分
(C)前者為同級政府的橫向分權，後者為中央與地方間的縱向分權
(D)前者為中央與地方間的縱向分權，後者為同級政府的橫向分權
9. 中山先生在自傳中曾說：「於西學則雅癖達爾文之道」，達爾文思想中為中山先生所贊同而引用的是：
- (A)進化的觀點
(B)互助的原則
(C)競爭的手段
(D)漸進的方法
10. 中山先生於民國13年手訂國民政府的建國大綱，其主要用意為何？
- (A)訓練人民行使直接民權的能力
(B)糾正民眾遇事畏難退縮的心理
(C)提供依序建設現代化國家藍圖
(D)指出中國經濟建設的發展方向
11. 2005年5月政府召開任務型國民大會，針對立法院的修憲案進行複決，此次修憲的重點為何？
- 甲、廢除國民大會改由立法院複決修憲案
乙、立法委員選舉制改為單一選區兩票制
丙、監察委員由總統任命不須立法院同意
丁、廢除考試院軍公教人員優惠存款利率
戊、總統彈劾案改由司法院大法官來審理
- (A)甲、乙
(B)乙、戊
(C)丙、丁
(D)丁、戊
12. 中山先生的民生主義，對於生產及分配的先後順序有何主張？
- (A)重養民，不強調生產分配的次序
(B)以歐美為鑑，應該先求合理分配
(C)應該按實際情況決定先後的順序
(D)中國患貧，宜先發達生產以求富
13. 近代有人指出：「槍桿子出政權」，古代也有人說：「天子者，兵強馬壯者居之。」中國歷史上，這種情況有時會成為政權交替的常態。下列哪一個時代最可能出現這種情況？
- (A)漢朝前期
(B)唐代中期
(C)五代時期
(D)明代中葉
14. 一位古董商人要出售以下文物：篆文書寫的青銅器、楷書書寫的《道德經》、甲骨文書寫的五言詩、隸書刻寫的竹簡。他最可能是何時何地的商人？
- (A)唐末的洛陽
(B)北宋的開封
(C)明初的南京
(D)民初的北京
15. 學者批評某個朝代頗多失禮之事，宮廷喋血衝突不絕於書，並認為這是因為這個朝代的創建沾染夷狄之風所致。這個朝代是指：
- (A)秦代
(B)唐代
(C)宋代
(D)清代

16. 一位英國商人第一次到淡水地區經商時，與當地商人發生衝突，但當地官署無法處罰他。七年後，這位商人再度來台，企圖如法炮製，卻立刻被官署糾正、處罰。這位商人大概是在何時來台？
- (A)1840年台灣開港通商前後 (B)1895年台灣割讓日本前後
(C)1915年一次大戰爆發前後 (D)1945年日本戰敗投降前後
17. 某人翻閱古書，看到一位任職台灣的官員在1820年提出一份有關當地的報告。這份報告的主旨最可能包括下列何者？
- (A)彰化地區發生了兩派人馬的集體衝突
(B)魚塢養殖的鰻魚豐收，外銷成果良好
(C)當地父老聯名，請求官府改建火車站
(D)糖廠安裝新式的蒸汽鍋爐以提高產能
18. 朱一貴之亂後，康熙皇帝在上諭裡指稱：「臺灣止一海島，本地所產不敷所用，仰賴閩省錢糧養生。」關於這份上諭，以下哪一項說明較為合理？
- (A)當時台灣生產力落後，人民生活窮困，需要福建接濟
(B)當時國家控制下繳納賦稅的戶口不多，財政收入不足
(C)這是清廷爲了安撫鄭氏餘黨，給予大量物資作爲酬庸
(D)這是清初加強台灣的建設，不足的經費由福建來支援
19. 以下是清朝以後中國人稱呼西方人的幾個說法：
- 甲、「中國稱『鬼子』其實是龜茲的轉音，只有通稱西方之意。」
乙、「以後各式公文，凡有關大英國臣民者，不得書『夷』字。」
丙、「茶葉大黃，外國所必需，中國不售，『夷人』何以爲生？」
- 它們出現的先後次序應是：
- (A)甲、乙、丙 (B)乙、丙、甲 (C)乙、甲、丙 (D)丙、乙、甲
20. 這位皇帝自誇他調整國家組織的成效，使得軍、政等機關分別處理庶務，互不統屬，彼此對抗，所有大權盡歸皇帝總之，所以穩當。這位皇帝應是：
- (A)秦始皇 (B)隋文帝 (C)明太祖 (D)清雍正
21. 一位政治家爲了鞏固政權，下令求才，強調不問道德，只要有才幹，雖不仁不孝，亦可任用。他是下列何人？
- (A)漢武帝 (B)曹操 (C)宋太宗 (D)王安石
22. 從某個時期開始，中國社會逐漸出現停棺多年、久喪不葬的習俗，要找到風水寶地之後才入葬。人們認爲這麼做可以帶給後世子孫功名或財富等福蔭，出人頭地。這種風俗背後反映了某種社會變動的趨勢。根據這個角度，此一習俗最早可能形成於何時？
- (A)秦漢時代，因布衣卿相之局，庶民有機會出頭
(B)魏晉時期，因道教盛行，庶民才流行風水觀念
(C)唐宋之間，反映工商業與科舉制擴大社會流動
(D)明清之間，反映商業繁榮，人民希望追逐財富

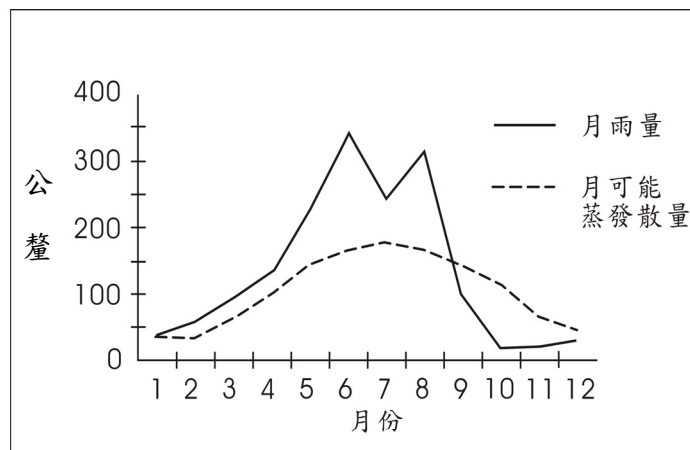
23. 學者根據清代兩次戶口統計資料，計算出清代台灣北、中、南、東四個區域人口數如表一，其中哪一個是北部地區？

表一

	嘉慶 16 年(1811)	光緒 19 年(1893)
甲	無資料	6,000 人
乙	258,000 人	767,000 人
丙	1,305,000 人	1,101,000 人
丁	342,000 人	622,000 人

- (A)甲 (B)乙 (C)丙 (D)丁
24. 中國某個朝代的前期，東北以鴨綠江與朝鮮為界，北方有蒙古韃靼、瓦剌等部族。此時期中，朝廷對境內大部分地區都能有效統治，少數民族也多臣服，但北方的邊患一直困擾著政府。這是哪一個朝代？
(A)宋代 (B)元代
(C)明代 (D)清代
25. 某人舉出兩個政府施政不當的例子，說明他對政治及國家運作的想法：
例一：有位正直的人，向地方官檢舉他的父親偷了一頭羊。地方官卻下令將他殺掉。從此以後，沒有人敢向政府報告事情。
例二：一位軍士每戰必敗，問他原因。軍士說是家裡有老父要奉養。政府不但不治罪，反而予以嘉獎。這個國家的軍隊從此再也無法打勝仗。
此人最可能是誰？
(A)孔子 (B)荀子
(C)老子 (D)韓非子
26. 二十世紀初，學者在敦煌附近的遺址中，發掘出一種用「新文字」書寫的佛經。後來有人找到一本名為《番漢合珠掌中書》的字典，才逐漸瞭解此種新文字的原則：使用漢字偏旁以代表各種意義。書寫時有篆、草、行、楷等書體，相當複雜。這應該是哪一種文字？
(A)西夏文 (B)藏文
(C)波斯文 (D)蒙古文
27. 1937年12月，上海發行的報紙報導：「南京上游29公里處，有英、美兩國船隻遭到某國飛機轟炸沈沒。」我們如何瞭解這個事件？
(A)英、美自己炸沈船隻，嫁禍中國，企圖擴大在中國利益
(B)德國與美國對歐洲事務有歧見，故對美國軍艦發動攻擊
(C)日本加速在中國的侵略，開始攻擊英美在華的軍隊設備
(D)中共在長江中游發展，受到英、美兩國掃蕩，憤而報復

- 28.圖一為臺中地區1961年至1990年平均的逐月水平衡圖。圖中的可能蒸發散量是指一般旱作或草地，滿足土壤蒸發和植株正常生長所需的蒸發散水量。假設土壤因雨水下滲所儲存的土壤水量最高為100mm，則超出的雨水將會成為逕流流出。在沒有灌溉的情況下，臺中地區的旱作農業，哪幾個月份最容易發生缺水的現象？



圖一

- (A)二月至五月
(B)七月至九月
(C)十月至十二月
(D)十一月至翌年一月
- 29.清代初期進出鹿耳門的船隻，多安排於清晨時出港、黃昏時入港。這樣的航程安排，和下列哪一項因素的關係最密切？
(A)季風的交替
(B)洋流的交會
(C)潮汐的漲退
(D)海陸風轉換
- 30.中國某地區「形勢封閉，終年濕氣重；地形複雜，氣候溫和，農產種類繁多、產量豐富。由於中醫認為麻辣有驅風除濕之效，當地因而發展出善用麻辣、菜色豐富的飲食文化。」該地區最可能是：
(A)雲貴高原
(B)東南丘陵
(C)四川盆地
(D)黃土高原
- 31.來自臺灣的職棒球員王建民，於美國夏令時間2005年9月30日下午七點出賽，臺灣的電視台在10月1日上午七點進行實況即時轉播。王建民應該是在哪一個城市出賽？
(A)波士頓(71°W)
(B)芝加哥(87°W)
(C)丹佛(104°W)
(D)洛杉磯(118°W)
- 32.某沙漠是世界上最乾燥的地區之一，終年雨量極少，但夜間卻常有濃霧籠罩。科學家在沙漠上張設纖維製成的網，讓夜間霧氣在網上凝成水滴，以便蒐集水。該沙漠少雨，夜間卻多霧的原因，和下列哪一因素的關係最密切？
(A)位居有涼流經過的沿海
(B)地處盛行西風的背風側
(C)終年受副熱帶高壓籠罩
(D)深居有高山環繞的內陸

33. 臺灣地處歐亞板塊和菲律賓海板塊的接觸帶，二者在花東縱谷縫合，以致地震頻繁、火山地形分布普遍。下列哪一個縣的火山地形面積，佔全縣總面積的比率最高？
(A)臺東縣 (B)花蓮縣 (C)臺北縣 (D)澎湖縣
34. 一位學者描述中國某一平原的區域特色是：「四周有山環水繞，中央則地勢低平、土壤肥沃。長期以來，許多游牧民族和漁獵民族向平原聚集；也有眾多華北平原的農耕民族移入，使本區居民的生活，具有多元文化的色彩。」該平原最可能是：
(A)成都平原 (B)寧夏平原 (C)渭河平原 (D)松遼平原

35-36為題組

◎根據自然環境的差異和人文發展的特色，可以把北京、天津、河北、山東、河南、山西和陝西七省市併為「華北地區」；把黑龍江、吉林和遼寧三省併為「東北地區」；把上海、重慶、江蘇、浙江、安徽、江西和湖北、湖南和四川九省市併為「華中地區」；把福建、廣東、廣西、貴州、雲南和海南六省併為「華南地區」；把內蒙古、寧夏、甘肅、新疆、青海和西藏六省區併為「塞北與西部地區」。表二是這五大地理區2003年的人口數、國際貿易額和部分物產佔全中國的比例。請問：

表二

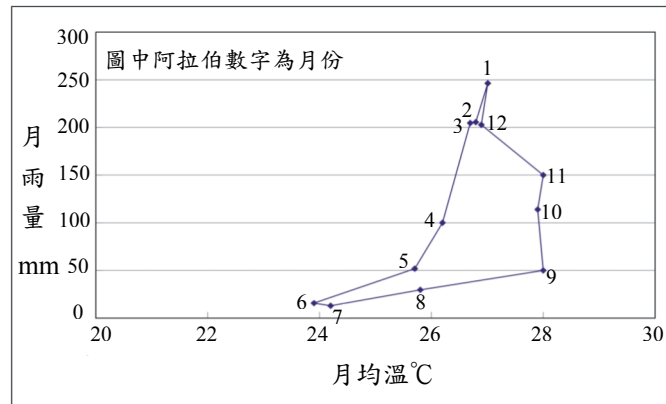
單位：%

地理區	人口數	國際貿易額	煤炭儲量	鐵礦儲量	錳礦儲量	糧食產量	積體電路板
甲	27.31	15.84	49.11	30.37	1.80	26.70	5.66
乙	6.46	1.25	29.01	9.19	2.44	7.85	7.34
丙	19.70	39.62	9.63	5.89	52.08	14.83	27.66
丁	38.12	38.26	7.48	24.69	38.31	36.07	59.34
戊	8.40	5.03	4.77	29.85	5.36	14.56	0.01
全國	100.00	100.00	100.00	100.00	100.00	100.00	100.00

35. 哪一個地理區糧食生產的商品化程度最高？
(A)甲 (B)丙 (C)丁 (D)戊
36. 甲、乙、丙、丁、戊所代表的地理區，下列敘述何者正確？
(A)甲：東北；乙：華北；丙：華中；丁：華南；戊：塞北與西部
(B)甲：華中；乙：東北；丙：華南；丁：華北；戊：塞北與西部
(C)甲：華北；乙：塞北與西部；丙：華南；丁：華中；戊：東北
(D)甲：華南；乙：塞北與西部；丙：華北；丁：華中；戊：東北

37-39為題組

◎圖二為某地多年平均的月雨量及月均溫點散布圖。請問：



圖二

37.該地最有可能位於下列哪一個緯度帶？

- (A) 50°N ~ 30°N (B) 30°N ~ 10°N (C) 10°N ~ 10°S (D) 10°S ~ 30°S

38.該地的天然植被最可能是：

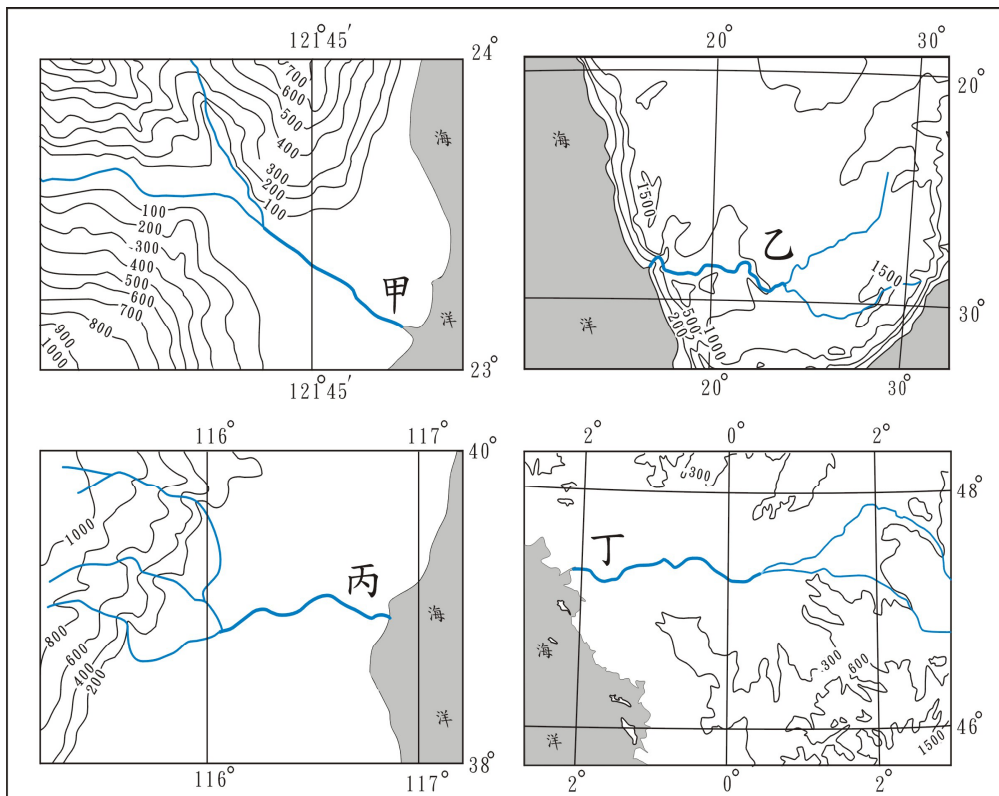
- (A) 雨林 (B) 針葉林 (C) 疏林草原 (D) 常綠闊葉林

39.在該種類型的氣候區內，下列哪一種經濟作物的栽培最普遍？

- (A) 橄欖 (B) 咖啡 (C) 甜菜 (D) 蘋果

40-42為題組

◎圖三甲、乙、丙、丁為四條河流地形圖，請問：



圖三

40. 圖中哪一條河流最可能出現在臺灣？
(A)甲 (B)乙 (C)丙 (D)丁
41. 圖中哪一條河流水量的洪枯變化最小？
(A)甲 (B)乙 (C)丙 (D)丁
42. 圖中哪兩條河流最可能出現在季風氣候區？
(A)甲、乙 (B)甲、丙 (C)乙、丙 (D)乙、丁

第貳部分(佔48分)

說明：第43至72題共30題，答對24題以上(含24題)，第貳部分即得滿分。第43至72題皆是單選題，請選出一個最適當的選項標示在答案卡之「選擇題答案區」。每題答對得2分，答錯不倒扣。

43. 一則新聞報導指出：「近幾年臺灣出現的霍亂案例，多與外籍新娘返回東南亞探親有關」。下列哪一項解讀最能說明這項報導？
(A)異國間的通婚很容易導致疾病的傳染
(B)霍亂發生於東南亞等低度發展的社會
(C)返鄉探親的女性外籍配偶最易成為疾病傳染源
(D)新聞媒體的報導有時會將女性外籍配偶污名化
44. 小文被朋友批評只顧唸書，不願意多花點時間練習籃球，以爭取班上榮譽。落單的小文覺得自己人緣差，因而失去原本自信的笑容，經與同學溝通後，各自調整而重新和好。小文的例子最能與下述哪一位學者的理論相符？
(A)亞當斯密認為行為的目的在增進社會利益
(B)米德認為自我之形成是透過與他人的互動
(C)涂爾幹指出個人的意志乃取決於社會規範
(D)佛洛伊德認為女性童年經驗使其缺乏自信
45. 2005年10月同性戀團體舉辦年度大遊行，提出公民平等不受歧視之訴求，部分亞洲國家同性戀團體也來台共襄盛舉，並交流推動同性戀人權經驗。下列關於此次遊行的敘述何者正確？
甲、以遊行提出訴求是一種公民權利的實踐
乙、同性戀是值得同情與關懷的偏差性傾向
丙、遊行訴求反映少數群體的權益常遭剝奪
丁、跨國參與顯示人權關懷為亞洲文化特色
戊、同性戀人權已明確列入我憲法保障範圍
(A)甲、丙 (B)乙、丁 (C)丁、戊 (D)甲、乙

- 46.目前國內有許多重大工程雇用外籍勞工，對於外籍勞工的權利保障，下列敘述何者最正確？
- (A)外籍勞工不具有公民身份，但仍應享有基本人權
 - (B)外籍勞工的權利保障應該依據其母國的法律規定
 - (C)外籍勞工居住滿一定年限後即享有歸化的公民權
 - (D)外籍勞工非本國國民，不適用我國憲法權利保障
- 47.基因科技的進步使複製夢想可能成真，但學者指出複製人的出現將嚴重衝擊現行倫理關係，日前聯合國也敦促各國立法禁止複製科技。對於基因科技爭議的說明，下列何者最為正確？
- (A)複製科技的出現將造成人口爆炸，增加財政負擔
 - (B)科技雖能解決生活難題，卻無法提供適切的規範
 - (C)基因科技的進步是導致倫理道德規範淪喪的主因
 - (D)器官買賣將隨基因科技而產生，並引發商業競爭
- 48.最近法國一名青少年躲避警方時誤觸電網而死，因而引發巴黎市郊貧民區的嚴重暴動。一位學者認為這是長期社會不平等所導致的社會衝突。我們如何理解這位學者的觀點？
- (A)青少年血氣方剛因而容易產生暴力行爲
 - (B)相對剝奪感往往使人們產生反社會行爲
 - (C)警察對待青少年的方式易引發人民反抗
 - (D)經濟不景氣導致人民因貧窮而走上街頭
- 49.表三是某國十六至六十五歲已婚女性之平均初婚年齡、婚前工作狀況與教育程度。根據表中的資訊可以獲得下列哪一項結論？

表三

單位：歲

婚前工作狀況	小學及以下	中學	大學及以上
婚前有工作者	21.66	23.59	26.47
婚前無工作者	20.85	22.11	23.92
平均初婚年齡	21.42	23.25	26.28

- (A)年齡愈高且婚前無工作者的初婚年齡愈早
 - (B)婚前工作的比例隨著年齡增加而逐漸降低
 - (C)婚前是否有工作對低教育程度者的初婚年齡影響較顯著
 - (D)教育程度愈高且婚前具有工作之女性，愈有晚婚之傾向
- 50.解嚴以後，臺灣社會變遷快速，下列有關臺灣經濟和生活型態變遷趨勢的敘述，何者正確？
- (A)飲食支出占總支出比例上升
 - (B)從事製造業的人口比例上升
 - (C)農產品的進口數量持續成長
 - (D)國民實質消費能力逐年增加


51. 1917年有一則啓事說：「每個自由之子，快來吧！把話傳過去，我們就要來了。拿起你的槍，亮給德國佬看，揚起旗幟吧，我們從來不畏艱難。我們不會回頭，直到戰爭終了。」這個啓事的背景是：
- (A) 俄國發生大革命，共黨號召群眾革命
 - (B) 奧地利政局改變，號召人民抵抗德國
 - (C) 英國決心參戰，開始與德奧等國作戰
 - (D) 美國宣布參戰，要招募人民從軍入伍

52. 表四是1926年時台灣的一項統計數字，這個表最適當的主題為何？

表四

	男	女	平均
日本人	98.3%	98.1%	98.2%
台灣人	43.0%	12.3%	28.0%

- (A) 台灣適齡兒童就學情況統計
 - (B) 台灣地區神道信徒人口統計
 - (C) 台灣地區成年人口就業統計
 - (D) 台灣地區醫療照護保險統計
53. 劉銘傳擔任台灣巡撫時，招募許多歐洲工程師來台灣協助興建鐵路，架設電線。有位工程師覺得台灣風土民情處處新鮮，將許多有趣之事向歐洲的親友報告，許多人也有親臨現場的感覺。他當時使用的方法最可能是：
- (A) 照相
 - (B) 錄影
 - (C) 繪圖
 - (D) 剪報
54. 有位美國學者預言：「未來50年」中，「生活會相當方便，熱氣和冷氣都從管線中來，以調節室內溫度。汽車價格將低於馬匹，農民會有自動推車、自動犁等機械化設備，草莓也會長得像蘋果一樣大。戰爭時，巨砲的射程可達四十公里，軍隊能從氣球上使用附有照相機的望遠鏡，監視100公里內敵人的動靜，並立刻傳到指揮官手上。」這位學者應是在何時做這個預言？
- (A) 1850年
 - (B) 1900年
 - (C) 1950年
 - (D) 2000年
55. 某國受到西方列強侵略，簽訂了包括協定關稅，承認西方領事有裁判權等內容的條約，受到相當時期的壓迫。該國於是發憤圖強，經過長期的改革與建設，並與列強積極交涉，到20世紀初，終於重新簽訂平等新約，獲得關稅自主權。這是哪一個國家的情況？
- (A) 日本
 - (B) 中國
 - (C) 菲律賓
 - (D) 印度
56. 一位政治人物指出：「讓殖民地人民自由地生活、並自己管理，才是我們的最終目的。恢復越南的秩序與和平，才是達到這個理想的最重要基礎。」這種想法代表的是：
- (A) 十九世紀後期，法國殖民主義者的想法
 - (B) 二十世紀初期，美國對民族自決的主張
 - (C) 二十世紀中期，法國對越南獨立的態度
 - (D) 二十世紀末，美國主張越南開放的說法

57. 一名女子說：「我不知道我算是哪一國人，我的祖父因為信奉新教，被教區神父處罰終身苦力；我的父親被老爺打成跛子；我的丈夫從軍去了，我不知道他究竟是幫誰打仗。」有人批評這名女子的丈夫及家人愚蠢，竟然為剝削他們的國王、貴族、教士作戰。根據這段資料的內容，這名女子最可能生活在：
- (A) 15世紀初義大利的莊園 (B) 16世紀末日耳曼北部城市
(C) 17世紀英國的港口農村 (D) 18世紀末法國中部的小鎮
58. 某人暑假時前往國外渡假，在遊記中說道：此地甚熱，又擔心水不潔淨，經常喝汽水等碳酸飲料。看不到熟悉的雜誌，空氣中飄來的各種香料及食物的氣味也很陌生。有一天肚子不舒服，找到一個掛有圖四這個標記的組織，協助他解決就醫問題。他最可能是在哪裡旅遊？
- (A) 泰國 (B) 古巴
(C) 巴基斯坦 (D) 巴西
- 
- 圖四
59. 一位學者回憶幼年的時光：「有人從上海帶來幾盒洋火柴，當時叫做自來火。雖然有了時鐘，但是在鄉下並無大用，早兩三個小時，晚兩三個小時，又有什麼關係？火柴其實也是奢侈品，至於煤油，那可又另當別論：煤油燈可以把黑夜照的如同白晝。國際上也發生了不少事。」從文中所述時代推斷，當時國際上可能發生哪件大事？
- (A) 法國大革命 (B) 瓦特改良蒸氣機成功
(C) 日本佔領台灣 (D) 印度脫離英國獨立
60. 下列哪一國家如加入歐盟，會使歐盟與中東伊斯蘭教地區接壤，易產生地緣政治上的摩擦？
- (A) 土耳其 (B) 摩納哥
(C) 塞爾維亞 (D) 阿爾巴尼亞
61. 在第四紀時，範圍廣大的大陸冰河曾覆蓋北美洲北部。美國哪一項地理特性和曾遭冰河覆蓋有關？
- (A) 西北部水力資源豐沛，水電充足
(B) 中部大平原北部，湖泊星羅棋布
(C) 東部阿帕拉契山脈為古老的結晶岩地塊
(D) 冬季極地大陸氣團直驅南下，天氣乾冷
62. 北美大陸的小麥帶，由美國堪薩斯州向北延伸到美加邊境，是世界最大、最重要的小麥生產帶。不過堪薩斯州的小麥栽培卻與美加邊境不同，最主要的差異是：
- (A) 農場規模 (B) 運輸方式
(C) 生產季節 (D) 機械化程度

63. 圖五是四個島嶼的輪廓圖。哪一個島嶼的綿羊放牧和乳牛飼養均極興盛，使畜牧業成爲該島嶼的經濟主體？



圖五

- (A)甲 (B)乙 (C)丙 (D)丁

64. 中華民國經濟部發布的各國投資環境簡介中，對某一國家的介紹是：「該國的地形包括平原、山地和高原三部份，氣候介於溫帶和熱帶之間。72%左右的人口居住在鄉村地區，宗教信仰和語言非常複雜。近年來，該國政府積極培養人才，並制訂各種法規和政策，致力發展通訊和軟體產業。」引文介紹的最可能是下列哪一個國家？

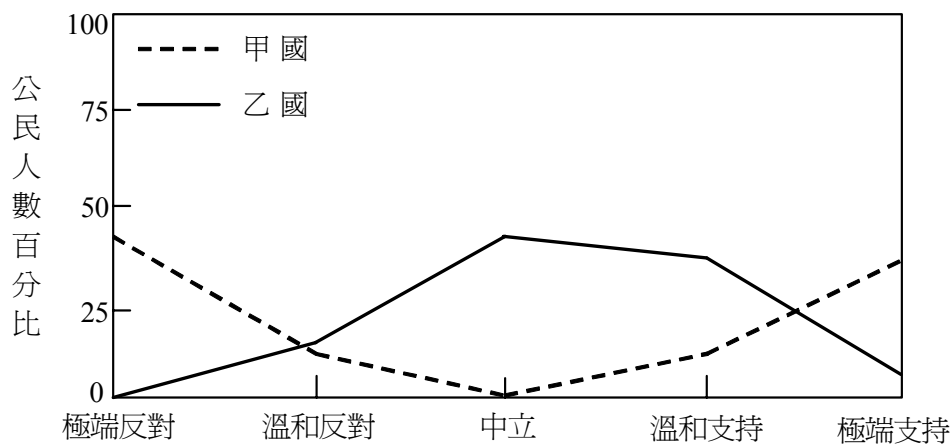
- (A)巴西 (B)印度 (C)墨西哥 (D)馬來西亞

65. 歷史上有很多地區由於強勢的宗教傳入，原來的宗教信仰受到壓抑，最後根本改變了這個地區的宗教文化景觀。但這些地區中，也有少數地方因地形封閉、環境隔絕，使外來文化對宗教信仰的影響較弱，原來的宗教乃得以保存下來，形成退守於強勢宗教海洋中的「文化島」。下列哪一地區的宗教文化景觀，仍殘存有「文化島」的現象？

- (A)中國的新疆 (B)西歐的愛爾蘭
(C)東非的衣索匹亞 (D)中美洲的墨西哥

66-67為題組

◎圖六是甲、乙兩國有關某社會議題的民意分布圖。



圖六

66.如果這個議題是有關「取消遺產稅」的問題，從圖中的訊息判斷兩國的社會情況，下列推論何者最恰當？

- (A)甲國的貧富懸殊較乙國嚴重 (B)乙國的貧富懸殊較甲國嚴重
(C)甲國的政府財政較乙國寬裕 (D)乙國的政府財政較甲國寬裕

67.如果這個議題是有關「同性戀婚姻合法化」的議題，從圖中的訊息判斷兩國的社會情況，下列推論何者最恰當？

- (A)甲國的價值多元程度較乙國為高
(B)乙國的價值多元程度較甲國為高
(C)甲國的家庭結構功能較乙國健全
(D)乙國的家庭結構功能較甲國健全

68-69為題組

◎表五為西元2000年世界各大洲某種礦物的探明可開採儲量，請問：

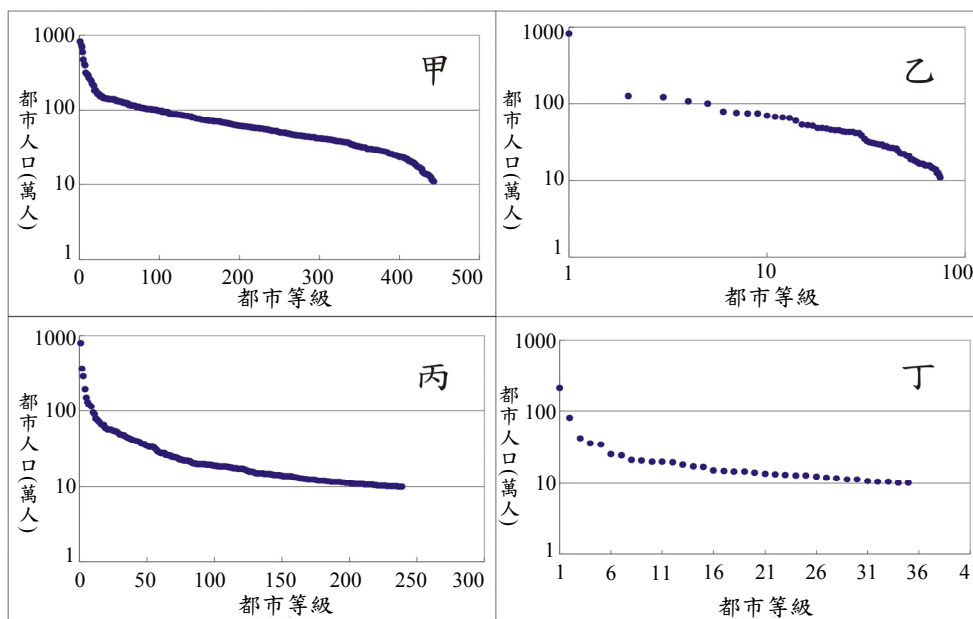
表五

洲別	儲量(百萬公噸)	%
亞洲	180,750	34.8
北美洲	120,222	23.2
歐洲	112,596	21.7
非洲	55,171	10.6
大洋洲	42,585	8.2
南美洲	7,728	1.5
世界	519,052	100.0

68. 非洲陸地面積約佔全球陸地面積的20.4%，但該種礦物的儲量卻僅佔10.6%。非洲該種礦物相對較少的原因，和該洲哪一項自然環境特徵的關係最密切？
- (A) 氣候帶大致呈南北對稱分布
 - (B) 地形以高原為主且地勢高聳
 - (C) 地質構造以古老結晶岩層為主
 - (D) 地表物理風化和化學風化旺盛
69. 如果人類持續大量消耗該種礦物，將直接導致哪一項全球性的環境問題更加嚴重？
- (A) 災害性地震的範圍擴大
 - (B) 土地沙漠化的程度加劇
 - (C) 高空大氣臭氧含量減少
 - (D) 全球平均氣溫逐漸上升

70-72為題組

◎圖七甲、乙、丙、丁四圖分別表示1990年時四個國家十萬人口以上都市的規模分布圖，請問：



圖七

70. 甲、乙、丙、丁四圖中，哪一幅最可能是1990年中國大陸的都市規模分布型態？
- (A) 甲
 - (B) 乙
 - (C) 丙
 - (D) 丁
71. 哪一個國家「經濟高度依賴世界價格」的色彩最濃厚？
- (A) 甲
 - (B) 乙
 - (C) 丙
 - (D) 丁
72. 在中國歷史上，北宋的都市規模分布型態，和圖七中的哪一種型態最類似？
- (A) 甲
 - (B) 乙
 - (C) 丙
 - (D) 丁